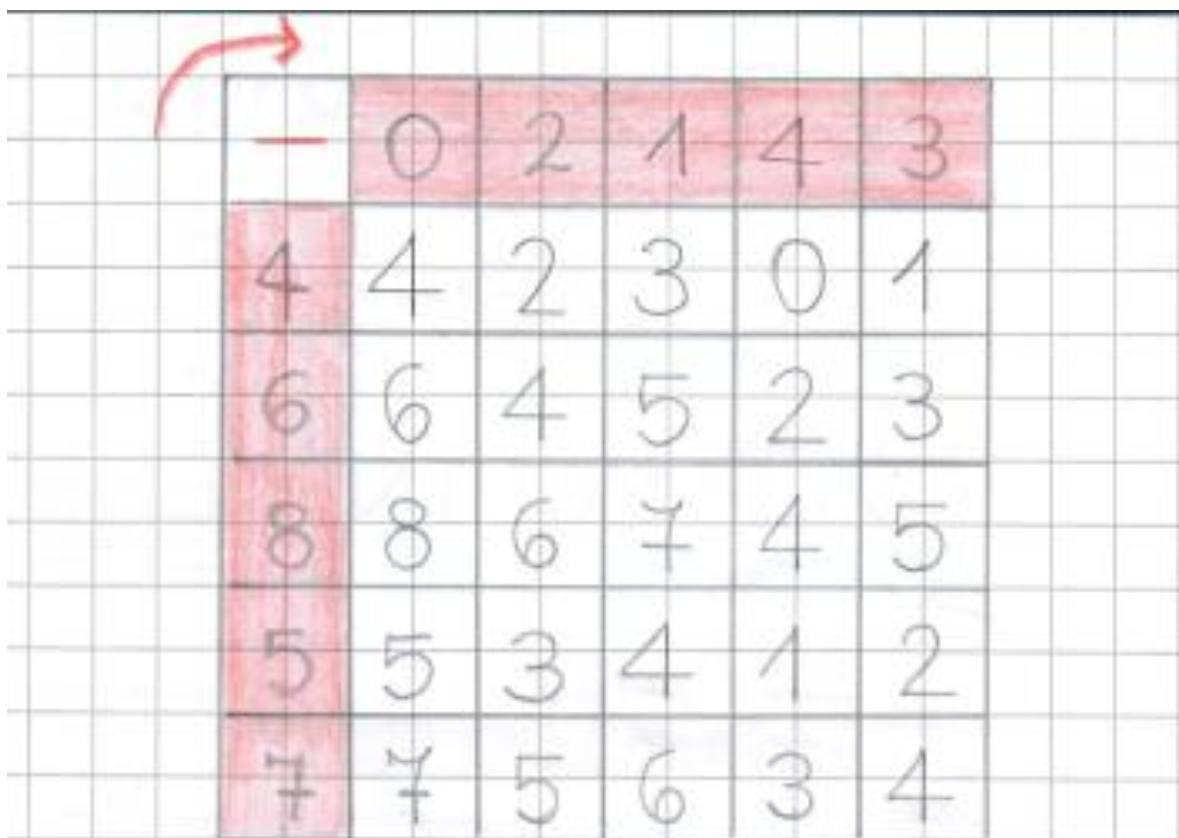


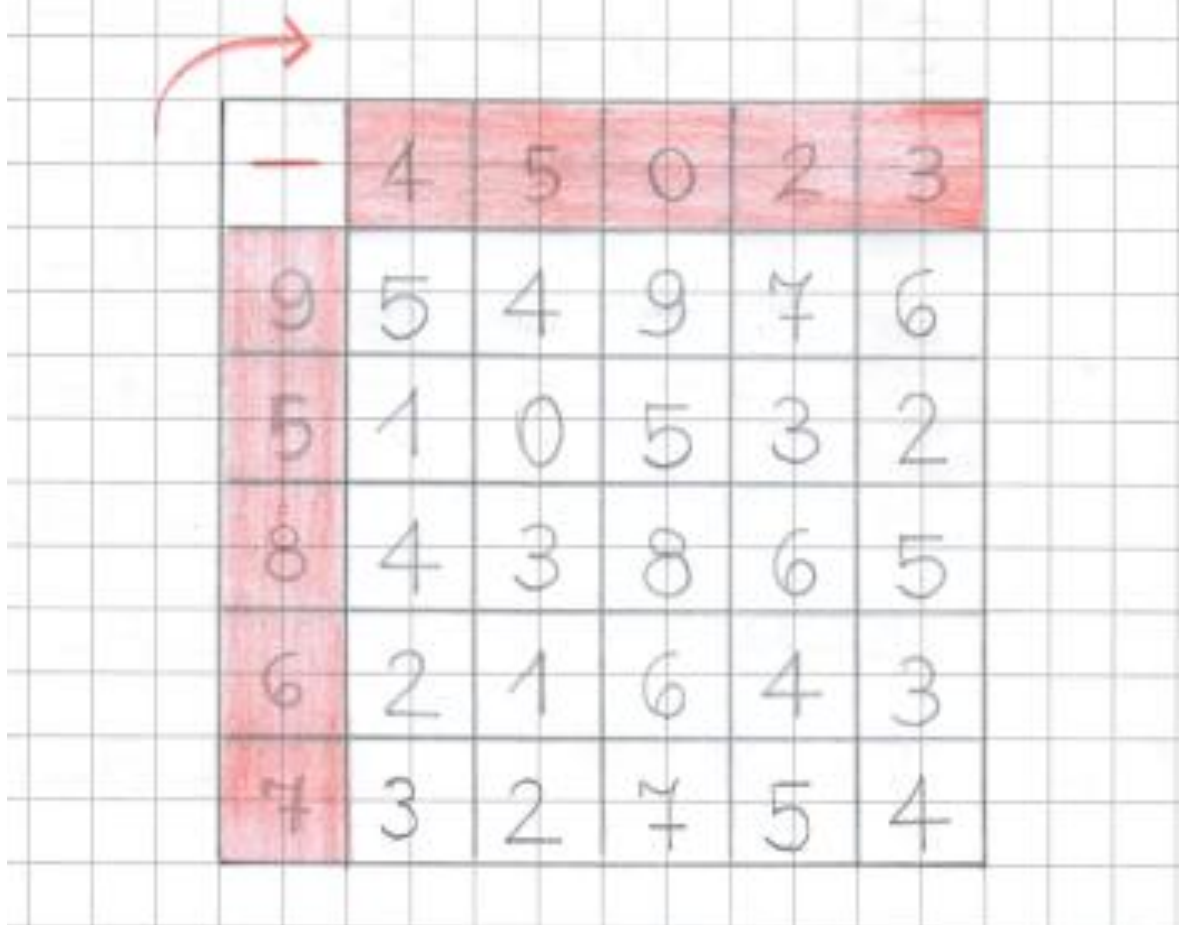
# CLASSE PRIMA: LAVORI PER IL 24 APRILE

Buongiorno bambini, ben ritrovati

Come prima cosa la correzione dei lavori che vi avevo lasciato



-	0	2	1	4	3
4	4	2	3	0	1
6	6	4	5	2	3
8	8	6	7	4	5
5	5	3	4	1	2
7	7	5	6	3	4

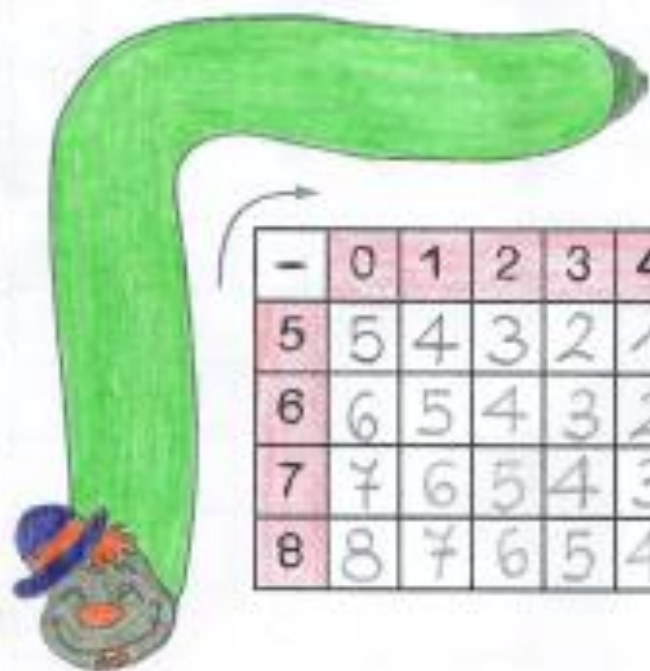


-	4	5	0	2	3
9	5	4	9	7	6
5	1	0	5	3	2
8	4	3	8	6	5
6	2	1	6	4	3
7	3	2	7	5	4

# COMPITO PER 21 APRILE

## Tabelle della sottrazione

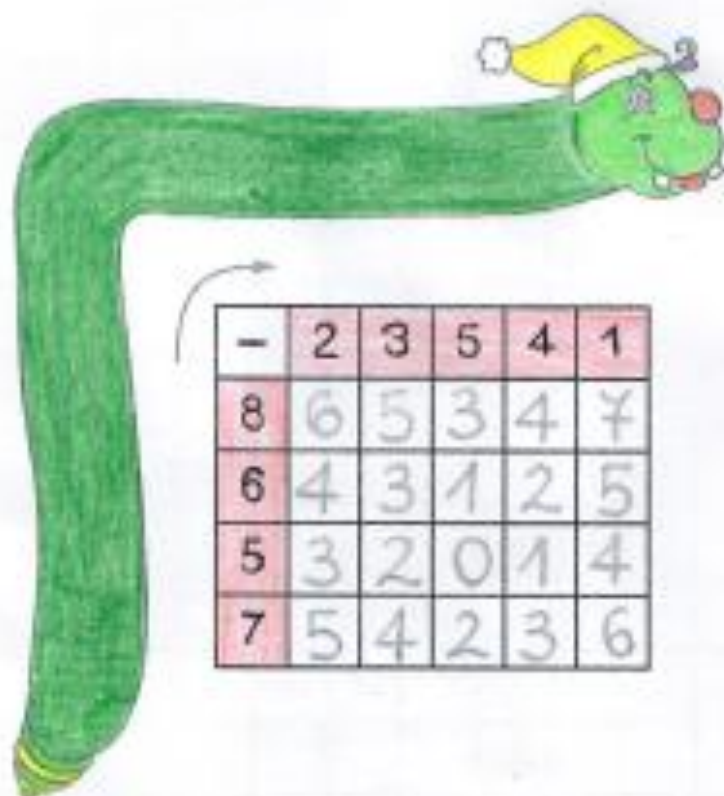
1. Completa.



-	0	1	2	3	4	5
5	5	4	3	2	1	0
6	6	5	4	3	2	1
7	7	6	5	4	3	2
8	8	7	6	5	4	3



-	1	4	5	3	2
6	5	2	1	3	4
8	7	4	3	5	6
7	6	3	2	4	5
9	8	5	4	6	7



-	2	3	5	4	1
8	6	5	3	4	7
6	4	3	1	2	5
5	3	2	0	1	4
7	5	4	2	3	6

## VEDIAMO ORA COSA FAREMO STAMATTINA .....

Questa mattina andremo a mettere a CONFRONTO le due operazioni che fino ad ora abbiamo conosciuto. Noi abbiamo visto

### L'ADDIZIONE

segno +

operazione che **AGGIUNGE**

### LA SOTTRAZIONE

segno -

operazione che **TOGLIE**

Teniamo ben presente queste informazioni perché, da oggi, TOCCHERÀ A NOI DECIDERE cosa bisogna fare ogni volta. Dovremo, cioè, ogni volta pensare e scegliere se è il caso di **AGGIUNGERE** oppure **TOGLIERE**?

a) Prendete il quaderno e scrivete la DATA

b) Incollate la scheda **AGGIUNGERE** o **TOGLIERE**?

## AGGIUNGERE O TOGLIERE?

↳ Osserva i disegni, poi completa con i numeri e le operazioni.

caramelle



dolcetti totali

cioccolatini

cioccolatini

dolcetti totali

caramelle

\_\_\_\_\_ + \_\_\_\_\_ = \_\_\_\_\_


\_\_\_\_\_ - \_\_\_\_\_ = \_\_\_\_\_

**RICORDA:**

**L'ADDIZIONE e la SOTTRAZIONE**

sono operazioni inverse:  
una aggiunge, l'altra toglie.

tulipani



fiori totali

margherite

tulipani

fiori totali

margherite

\_\_\_\_\_ + \_\_\_\_\_ = \_\_\_\_\_

\_\_\_\_\_ - \_\_\_\_\_ = \_\_\_\_\_

(VEDI VIDEO)

c) Se avete capito come si lavora ora vi lascio alcuni esempi che risolverete con calma da soli. Ogni volta costruite **"L'ANELLO MAGICO"** usando il pastello rosso e blu e scrivendo con la matita SEGNO e NUMERO.

1                      8    0                      4

4                      8    5                      9

2                      4    6                      9

3                      6    2                      7

d) Bene bimbi, mi fermo qui e vi lascio una scheda di compito in cui lavorerete sempre con le operazioni INVERSE.

Quindi vi saluto e noi ci sentiamo ancora venerdì.

Vi mando un forte abbraccio bimbi, FORTE FORTE perché mi mancate TANTO TANTO!!!

A presto

M/a Silvia

## OPERAZIONI INVERSE



In ogni quadratino scrivi il numero esatto e completa le operazioni.

Fragole



Frutti in tutto

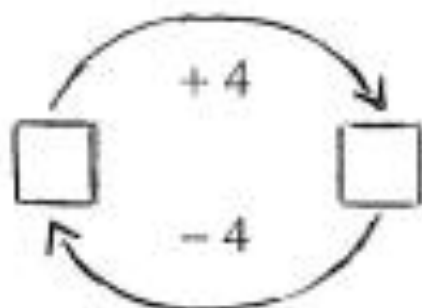
Ciliegie

Ciliegie

Frutti in tutto

Fragole

..... + ..... = .....



..... - ..... = .....

Tulipani



Fiori in tutto

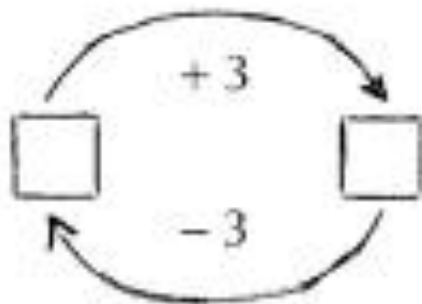
Margherite

Margherite

Fiori in tutto

Tulipani

..... + ..... = .....



..... - ..... = .....



Completa.

