

ATTIVITA' GEOGRAFIA CLASSE 3^

Videolezione su: https://youtu.be/u0reL_AaKJo

Studia sul libro p. 104 e 105

Completa il laboratorio di pagina 191. LO CORREGGEREMO NELLA LEZIONE INCONTRO del 13 maggio. Buon lavoro!








Geografia

La montagna

Le attività dell'uomo

La montagna offre diverse risorse che sono utilizzate per dare vita ad attività economiche.

1 Collega con colori diversi ogni risorsa alla sua attività.

Risorse		Attività economiche	
 Paesaggi spettacolari	 Abbondanza di legname	 Allevamento	 Industria estrattiva
 Vasti pascoli	 Presenza di minerali	 Segherie	 Turismo

2 In montagna i centri abitati più grandi si trovano nei fondovalle. Spiega perché.




.....

.....

.....

3 In montagna talvolta lungo il corso dei fiumi vengono costruite delle dighe. Spiega perché.



.....

.....

.....