

Ecco le schede di geografia con le correzioni

METODO Competenza **INTERPRETARE**

I mari in Italia

Ripassa le informazioni studiate sui mari in Italia (pagine 62 e 63 del Sussidiario), poi interpreta questa carta geografica.


- Scrivi il nome dei mari ai posto giusto sulla carta; scegli fra i seguenti facendo attenzione agli intrusi.

Mar Adriatico
Mar Genovese
Mar di Adria
Mar di Sicilia
Mar Tirreno
Mar di Messina
Mar Ionio
Mar Ligure
Mar di Sardegna

- Descrivi la posizione, le caratteristiche e il tipo di costa di due mari a tua scelta.

*MAR LIGURE = A NORD OVEST CON COSTA ALTA E ROCCIOSA.

*MAR ADRIATICO = DA NORD A SUD EST CON COSTA BASSA E SABBIOSA.




IMPARARE INSIEME

Ora valuta il lavoro che hai svolto in questa pagina.

- Sono riuscito a individuare correttamente i mari sulla carta.
- Sono riuscito a interpretare la carta.
- Sono riuscito a descrivere le caratteristiche di due mari.

C'è qualcosa che pensi di dover migliorare? Che cosa? Spiega.



I mari italiani

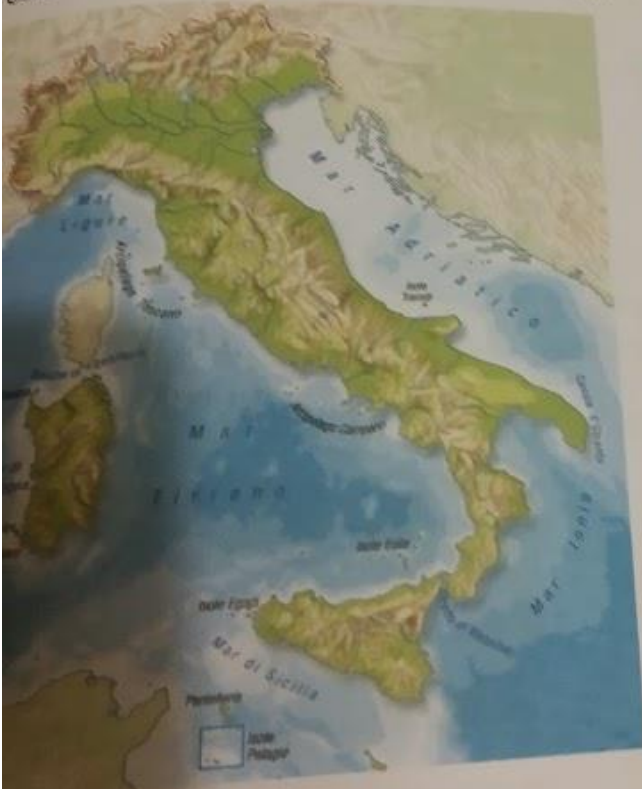
Paesaggi di acqua
Pagine 82 e 83

Collega ogni definizione riferita al paesaggio marino al termine corrispondente.
Usa le lettere.

- (A) È la linea lungo la quale il mare incontra la terraferma.
- (B) È un territorio completamente circondato dall'acqua.
- (C) È un territorio circondato per tre lati dall'acqua.
- (D) È un gruppo di isole vicine tra loro.
- (E) È una sporgenza montuosa della costa.
- (F) È una rientranza ampia e molto profonda della costa.

- (B) isola
- (D) arcipelago
- (C) penisola
- (F) golfo
- (A) costa
- (E) promontorio

Osserva la carta geografica e rispondi alle domande.



- Qual è il mare più profondo? MAR IONIO
- Quale mare si trova più a ovest? MAR DI SARDEGNA
- Quale mare si collega allo Ionio tramite il Canale d'Otranto? MAR ADRIATICO
- Quale mare si trova fra l'Italia e il continente africano? MAR DI SICILIA
- Quale mare bagna sia la penisola sia le due isole maggiori? MAR TIRRENO
- Quale mare si trova a nord del Mar Tirreno? MAR LIGURE

Un mare... quasi chiuso!

Paesaggi di acqua
Pagine 62 e 63

1 Leggi il testo riferito al Mar Mediterraneo, poi indica con una X se ogni affermazione è vera (V) o falsa (F).

Ripreso dai satelliti, il Mar Mediterraneo appare come un lago. È, infatti, un mare quasi completamente **chiuso**, che comunica con l'Oceano Atlantico soltanto attraverso uno stretto passaggio: lo **Stretto di Gibilterra**. Ciò significa che il rinnovamento delle sue acque, costrette a passare solo da quella piccola "porta", avviene lentamente: gli studiosi hanno calcolato che occorrono quasi 100 anni. Tuttavia, intorno al Mediterraneo, milioni di persone vivono grazie alle sue bellezze e ricchezze: esse praticano la **pesca**, il **turismo**, il **commercio** ma producono un elevato livello di **inquinamento**. Le sostanze inquinanti rischiano di creare una situazione davvero insostenibile per un mare tanto prezioso quanto delicato! Per questo, da circa trent'anni i Paesi affacciati lungo le coste del Mar Mediterraneo hanno attivato un "**piano di emergenza**" che prevede l'obbligo dei depuratori per aziende e centri costieri, la salvaguardia di numerosi ambienti naturali marini, l'informazione e, soprattutto, l'educazione dei cittadini.

- Visto dall'alto, il Mar Mediterraneo sembra un fiume.
- Il Mar Mediterraneo è collegato all'Oceano Atlantico attraverso lo Stretto di Gibilterra.
- Le sue acque impiegano trent'anni per rinnovarsi.
- Viene sfruttato solo per la pesca.
- Le attività umane hanno prodotto un alto livello di inquinamento del Mar Mediterraneo.
- I Paesi che si affacciano sul Mediterraneo si impegnano a ridurre l'inquinamento.

V	F
X	F
V	X
V	X
X	F
V	F

2 Circonda sulla carta geografica lo Stretto di Gibilterra e indica la sua posizione rispetto all'Italia. Usa i punti cardinali.

LO STRETTO DI GIBILTERRA È A SUD-OVEST RISPETTO ALL'ITALIA.



Ecco le schede di geografia con le correzioni: controllate bene il lavoro fatto e se ci sono dei dubbi potrete chiedermeli durante la video lezione di giovedì.

Per la volta prossima provate a completare le pagine 101 e 140.

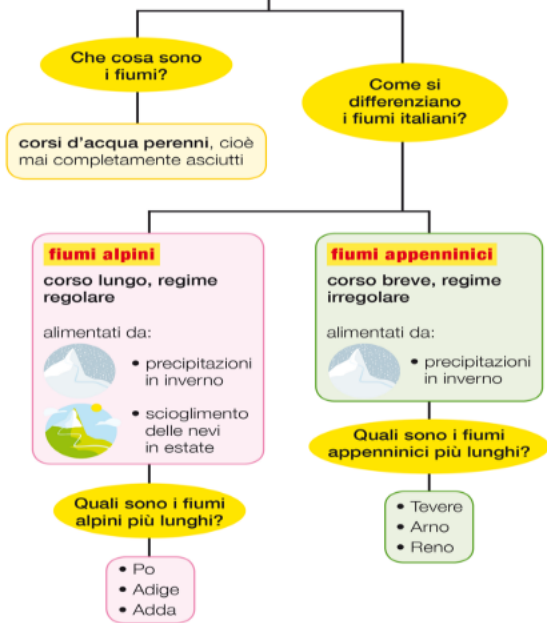
Pag.101: riguarda i vari paesaggi di acqua come mari, fiumi e laghi: in questa scheda si chiede un riassunto di tutto quello che abbiamo detto.

Pag.140: per fare pag.140 devi aver memorizzato la cartina di pag. 62. Se hai difficoltà riprendi in mano le pagine 62/63 e poi completa la scheda.

Vi ho inserito le pagine di mappe riguardanti i paesaggi di acqua che son a pagina 34/35 del libro mappe.

**BUON LAVORO A TUTTI VOI E CI RISENTIAMO
GIOVEDÌ.....**

I FIUMI ITALIANI



I LAGHI ITALIANI



I MARI E LE ISOLE D'ITALIA

Quali sono i mari italiani?



Quali isole si trovano nei mari italiani?

le maggiori...

- Sicilia
- Sardegna

nel Mar Tirreno...

- Arcipelago Toscano
- Arcipelago Campano
- Isole Eolie
- Isole Egadi

nel Mar di Sardegna...

- Asinara
- San Pietro
- Sant'Antioco

nel Mar Adriatico...

- Isole Tremiti

nel Mar di Sicilia...

- Pantelleria

nel punto più a sud d'Italia...

- Isole Pelagie

LE COSTE ITALIANE

Quali sono i tipi di costa?

costa alta



- costa frastagliata
- roccia
- scogli
- promontori
- golfi
- adatta per i porti

costa bassa



- costa lineare
- sabbia o ghiaia