

Buongiorno bimbi ..... Com'è andata con il lavoro di matematica?

Partiamo, però dalla correzione del compito

# COMPITO PER 26 MAGGIO

## PRECEDE E SEQUE

Completa le tabelle ricordando che:

**PRECEDE**

numero che viene PRIMA

**SEQUE**

numero che viene DOPO



-1

5	6
8	9
11	12
16	17
18	19

+1

3	4
7	8
10	11
13	14
15	16



-1    +1

1	2	3
4	5	6
8	9	10
2	3	4
7	8	9

-1    +1

9	10	11
12	13	14
17	18	19
14	15	16
13	14	15

# COLORO CON IL GIALLO

COLORA LE CASELLE  $>$  DI

15

13	20	16	17
18	7	8	14

13

17	10	5	7
6	12	8	20

9

19	11	9	18
20	10	17	16

COLORA LE CASELLE  $<$  DI

18

19	6	5	20
16	17	15	13

17

20	15	16	19
18	8	10	21

11

9	13	4	2
20	6	0	15

## STAMATTINA LAVORIAMO INSIEME

a) Prendete il quaderno e scrivete la DATA

b) Sotto alla data ricopiate, con il rosso, il titolo e seguite la spiegazione del lavoro

**(VEDI VIDEO)**

### COLORA DI **ROSSO** IL NUMERO MINORE

5	15	3
---	----	---

9	6	18
---	---	----

7	4	8
---	---	---

6	9	11
---	---	----

13	11	15
----	----	----

9	11	10
---	----	----

### COLORA DI **VERDE** IL NUMERO MAGGIORE

8	16	12
---	----	----

3	7	9
---	---	---

15	17	13
----	----	----

9	6	11
---	---	----

5	2	3
---	---	---

17	14	18
----	----	----

### COLORA DI **ROSSO** IL NUMERO MINORE E DI **VERDE** IL NUMERO MAGGIORE

12	11	15
----	----	----

8	18	19
---	----	----

17	9	12
----	---	----

10	13	9
----	----	---

7	3	5
---	---	---

19	20	16
----	----	----

13	7	19
----	---	----

20	15	9
----	----	---

14	10	12
----	----	----

c) Nella pagina pulita, ricopiate il titolo del nuovo esercizio e seguite la spiegazione del lavoro nel **VIDEO**

**RIORDINIAMO I NUMERI DAL MINORE AL MAGGIORE**

11 . 17 . 10 . 9 . 20 . 13 . 16 . 3 . 7 . 18

**(VEDI VIDEO)**

d) Nella pagina pulita , ripetiamo lo stesso lavoro ordinando, però, dal numero più grande al più piccolo

**RIORDINIAMO I NUMERI DAL MAGGIORE AL MINORE**

18 . 6 . 12 . 4 . 17 . 15 . 11 . 2 . 8 . 19 . 20

**(VEDI VIDEO)**

e) A questo punto il compito

**COMPITO PER 29 MAGGIO**

Dopo aver rivisto con calma il lavoro fatto insieme

- Completa la scheda I NUMERI DA 10 A 20
- Completa la scheda CONFRONTARE LE QUANTITA'

Spero sia tutto chiaro.


Lavorate con ordine e cura. Noi ci sentiamo venerdì.

A presto, bimbi

M/a Silvia

# I NUMERI DA 10 A 20


● Completa scrivendo i numeri che mancano, poi colora seguendo le indicazioni.



● Ora colora seguendo le indicazioni.

- In rosso la casella prima del numero 14.
- In blu quella dopo il 15.
- In giallo quelle minori di 10.
- In viola quella dopo il 14.
- In verde quella prima dell'11.
- In arancione quelle dopo il 18.

● Quali caselle non hai colorato? Completa.



● Scrivi il numero precedente e quello successivo



..... 13 .....      ..... 10 .....      ..... 17 .....

..... 19 .....      ..... 14 .....      ..... 15 .....



# CONFRONTARE LE QUANTITÀ

- In ciascun gruppo, colora in verde il numero minore e in rosso il numero maggiore.



Ricorda: la punta del  
segno  $>$  (maggiore)  
o  $<$  (minore) è  
sempre rivolta  
verso il numero più  
piccolo.

- Inserisci  $<$  o  $>$

15	<input type="checkbox"/>	16	20	<input type="checkbox"/>	18
15	<input type="checkbox"/>	14	16	<input type="checkbox"/>	19
8	<input type="checkbox"/>	18	10	<input type="checkbox"/>	11

