

Buongiorno bimbi belli ben ritrovati!


Tutto bene con il centinaio?

Vediamo subito la correzione del compito.

Compito per venerdì 29 maggio

GRUPPI DA 10

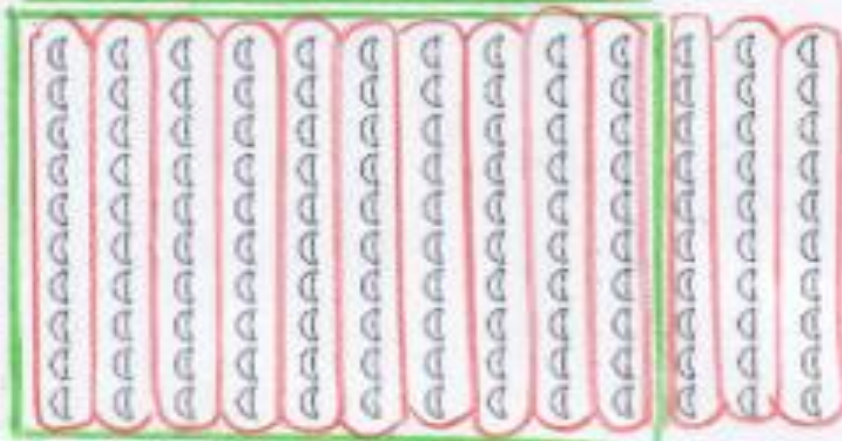
↳ Raggruppa per dieci e registra in tabella.



centinaia h	decine da	unità u
1	2	4




centinaia h	decine da	unità u
1	0	9



centinaia h	decine da	unità u
1	3	0


IL CENTINAIO

Scrivi in cifre e in lettere le quantità rappresentate con il materiale multibase.




centinaia h	decine da	unità u
1	2	0

centoventi




centinaia h	decine da	unità u
1	7	0

centosettanta



centinaia h	decine da	unità u
1	1	0

centodieci



centinaia h	decine da	unità u
1	6	0

centosessanta

Questa mattina, riprendiamo e continuiamo a lavorare con il 100

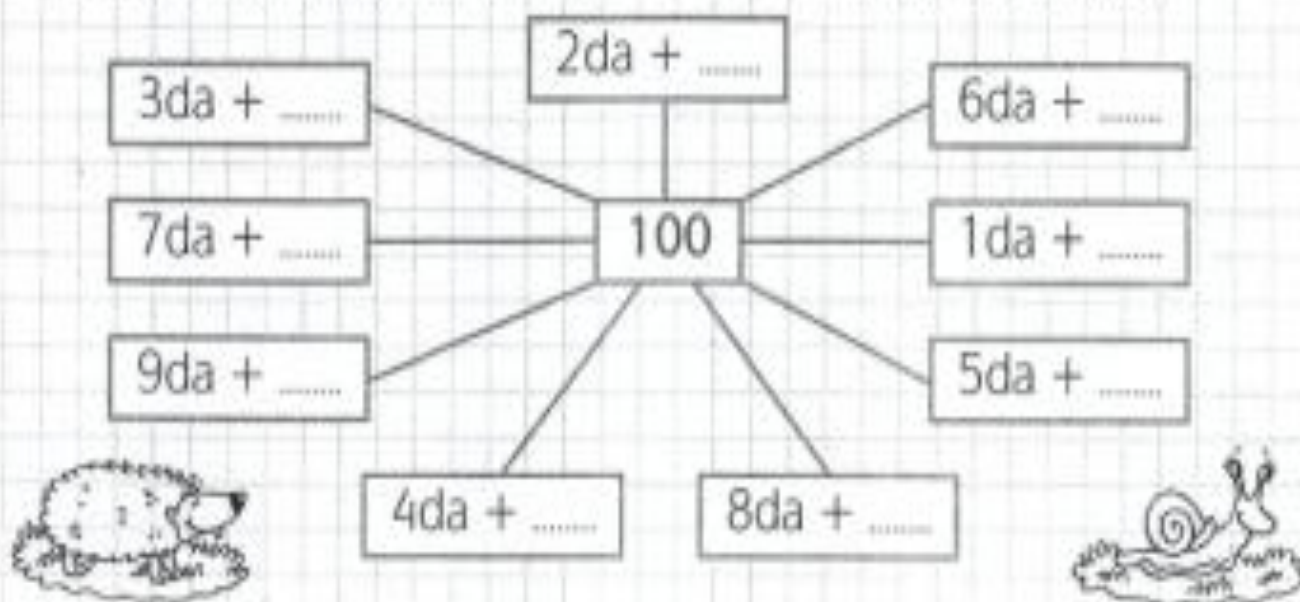
a) Prendete il quaderno e scrivete la DATA

b) Ricopiate il titolo e la regola. Poi incollate e completate la scheda

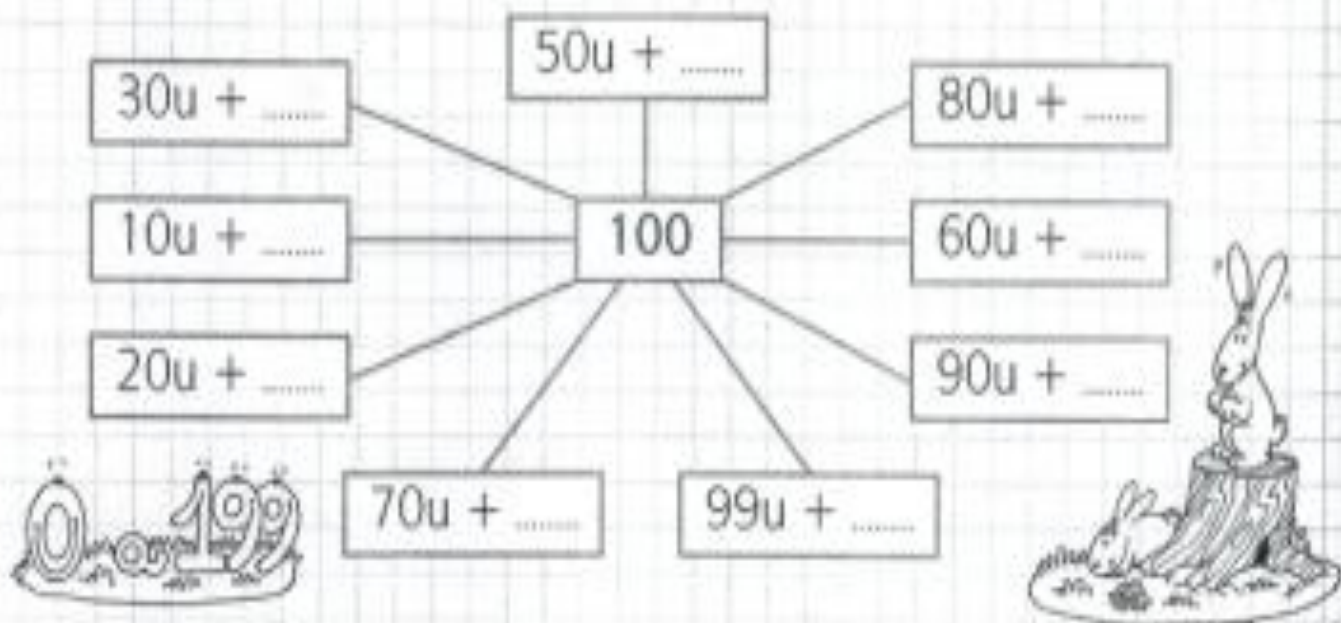
(VEDI VIDEO)

FORMARE IL 100

1 Quanto manca per arrivare a 100? Usa solo le decine.



2 Quanto manca per arrivare a 100? Usa solo le unità.



c) Ricopiate il titolo ed insieme completiamo gli esercizi proposti (**VEDI VIDEO**)

I NUMERI OLTRE IL 100

1 Scomponi i numeri, come nell'esempio.

$$187 = 100 + 80 + 7 = 1 \text{ h}, 8 \text{ da}, 7 \text{ u}$$

$$254 = \underline{\quad} + \underline{\quad} + \underline{\quad} = \underline{\quad}$$

$$171 = \underline{\quad} + \underline{\quad} + \underline{\quad} = \underline{\quad}$$

$$248 = \underline{\quad} + \underline{\quad} + \underline{\quad} = \underline{\quad}$$

$$140 = \underline{\quad} + \underline{\quad} + \underline{\quad} = \underline{\quad}$$

$$230 = \underline{\quad} + \underline{\quad} + \underline{\quad} = \underline{\quad}$$

$$109 = \underline{\quad} + \underline{\quad} + \underline{\quad} = \underline{\quad}$$

$$203 = \underline{\quad} + \underline{\quad} + \underline{\quad} = \underline{\quad}$$



2 Componi i numeri, come nell'esempio.

$$4 \text{ h}, 5 \text{ da}, 6 \text{ u} = 400 + 50 + 6 = 456$$

$$5 \text{ h}, 2 \text{ da}, 6 \text{ u} = \underline{\quad} + \underline{\quad} + \underline{\quad} = \underline{\quad}$$

$$3 \text{ h}, 7 \text{ da}, 1 \text{ u} = \underline{\quad} + \underline{\quad} + \underline{\quad} = \underline{\quad}$$

$$2 \text{ h}, 1 \text{ da}, 5 \text{ u} = \underline{\quad} + \underline{\quad} + \underline{\quad} = \underline{\quad}$$

$$2 \text{ h}, 9 \text{ da}, 8 \text{ u} = \underline{\quad} + \underline{\quad} + \underline{\quad} = \underline{\quad}$$

$$1 \text{ h}, 4 \text{ da}, 7 \text{ u} = \underline{\quad} + \underline{\quad} + \underline{\quad} = \underline{\quad}$$

3 Completa le tabelle, come negli esempi.

- 1 da		+ 1 da
189	199	209
	245	
	360	
	151	
	200	
	290	

- 1 h		+ 1 h
242	342	442
	187	
	254	
	180	
	209	
	171	

4 Inserisci > < =.

$$254 \quad \square \quad 3 \text{ h}$$

$$451 \quad \square \quad 415$$

$$2 \text{ h} \quad \square \quad 199$$

$$500 \quad \square \quad 5 \text{ da}$$

$$243 \quad \square \quad 234$$

$$108 \quad \square \quad 118$$

$$200 \quad \square \quad 198$$

$$103 \quad \square \quad 1 \text{ h}$$

$$305 \quad \square \quad 3 \text{ h } 5 \text{ da}$$

$$171 \quad \square \quad 1 \text{ h } 8 \text{ da}$$

$$1 \text{ h } 7 \text{ u} \quad \square \quad 107$$

$$3 \text{ h } 4 \text{ da} \quad \square \quad 340$$

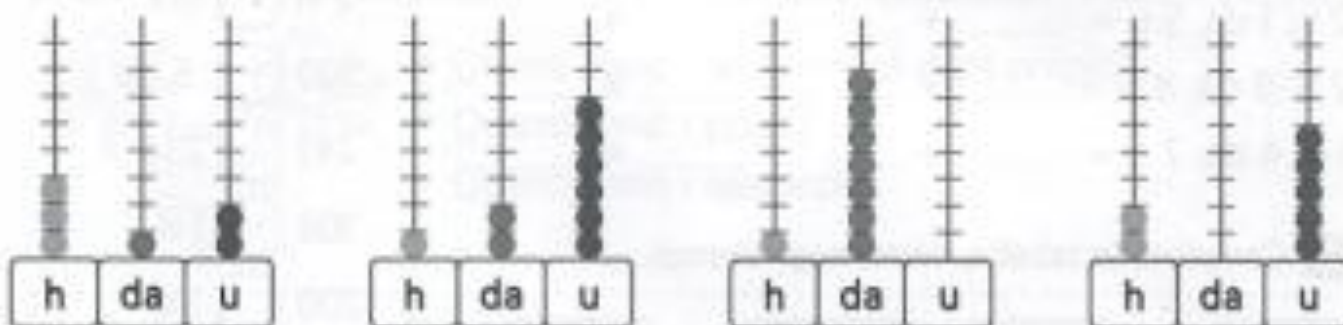
I NUMERI OLTRE IL 100

1 Leggi il numero e scrivilo in cifre.

duecento	_____	duecentocinquantasei	_____
centosette	_____	duecentouno	_____
centocinquanta	_____	trecentotrenta	_____
trecentoventidue	_____	centodue	_____
quattrocento	_____	centoundici	_____
centoventi	_____	duecentodiciassette	_____

2 Collega il numero in cifre al numero in parola e alla sua rappresentazione sull'abaco.

trecentododici	centoventisei	centosettanta	duecentocinque
126	170	205	312



3 Completa le tabelle scrivendo il numero precedente e quello successivo.

precedente		successivo
	140	
	208	
	151	

precedente		successivo
	199	
	215	
	176	

d) **Compito per la prossima volta (venerdì 5 giugno):**

completa sul libro NUVOLA ROSSO pag. 28, 29, 30, 31

Bimbi, noi ci risentiamo tra una settimana, venerdì 5 giugno.

Buon lavoro!

M/a Silvia